



À mon tour

1  Complète.

$1 + 1 = \boxed{2}$

Le double de 1 est



$3 + 3 = \boxed{\quad}$

Le double de 3 est

2  Compte les balles ● et complète.




Il y a balles bleues ●.

Il y a balles vertes ●.

En tout, il y a balles ●.

Le double de 9 est

Entoure un groupe de 10 balles ● pour t'aider à compter.

3  Dessine 5 autres croix ✕.1  Complète.

$5 + 5 = \boxed{\quad}$ Le double de 5 est